

自転車ルール・標識 問題



◆ 自転車問題 ◆

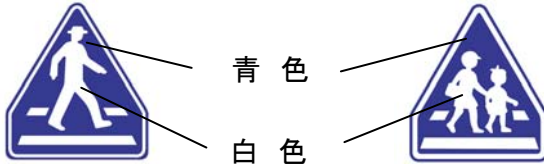
次の文章で、正しいと思うものには○、間違っていると思うものには×を、口の中に記入してください。

- 1 自転車で広い道路を走る場合は、何台でも並んで走行してもかまいません。
- 2 風や雨の強い日は、自転車を押して通行します。
- 3 自転車で踏切を渡るときは、自転車に乗ったままで、スピードを上げて早く渡ります。
- 4 交差点の手前で車が渋滞しているときは、車の間を通過して前にもかまいません。
- 5 道路を横断するとき、近くに自転車横断帯や横断歩道がない場合には、どこから横断してもかまいません。
- 6 自転車の大人の二人乗りは禁止されていますが、中学生は二人乗りをしてもかまいません。
- 7 雨の日は、傘をさして自転車に乗ってもかまいません。
- 8 携帯電話を手で持ち、通話や操作をしながら自転車を運転してはいけません。
- 9 自転車のブレーキは、前輪がよくきけば、後輪はあまりきかなくても大丈夫です。
- 10 自転車が通行してもかまわない歩道では、車道から最も遠い部分を通行しなければいけません。

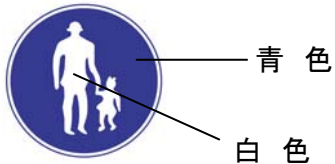
◆標識・表示問題◆

次の文章を読んで、正しいと思うものには○を、間違っていると思うものには×を、□の中に記入しましょう。また、7番と9番は、アイウの中から正しいと思うものを□の中に記入しましょう。


- 1 この2つの標識は「横断歩道である」という意味です。



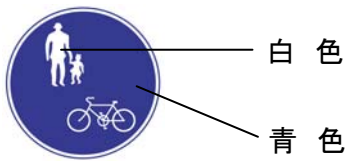
- 2 この標識は「この道は子どもを連れた大人が通る道」という意味です。



- 3 この標識は「車は通ってはいけないが、歩行者は通ってもかまわない」という意味です。



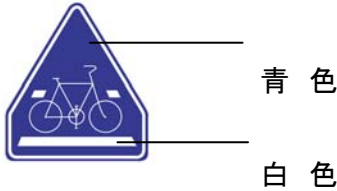
- 4 この標識のある歩道では自転車に乗って走ってもかまいません。



- 5 この標識は「自転車をここへ止めてはいけない」という意味です。



- 6 自転車に乗って自転車横断帯(図の標識・表示)があるところを横断するときは、表示された部分を通らなければなりません。

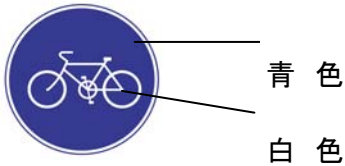


- 7 自転車で走っていたら、図の標識がありました。どのように通るのが正しいか選びましょう。



- ア 自転車には関係のない標識なので、そのまま通ります。
イ 停止線の直前止まり、左右の安全を確かめてから通ります。
ウ 自転車には関係のない標識ですが、速度を落として通ります。

- 8 この標識は「自転車専用」の道路であることを表していますが、歩行者も通行できます。



- 9 自転車が通行してもかまわない歩道で、自転車の歩道通行部分(図の標示)がある所を自転車で通行するときは、どのようにするのが正しいか選びましょう。



- ア 自転車専用部分なので、普通のスピードで走ります。
イ 歩行者がいない時は、状況に応じて安全な速度と方法で進行できる。
ウ 歩行者がいる場合には、警音器(ベルやブザー)を鳴らして、歩行者に進路を譲ってもらって通行します。

- 10 この標識は「自転車から降りて押して歩いている人のための道路」という意味です。

